

Preguntas liberadas

Matemática

1° Básico

Marzo 2023

Sector	Matemática
Nivel	1° Básico
Eje	Números
Subeje	Operaciones de números naturales
Habilidad	Comprender
Indicador de evaluación	Modelar diversas situaciones con operaciones de números naturales.
Opción correcta	C
Porcentaje de elección Opción A	12 %
Porcentaje de elección Opción B	27 %
Porcentaje de elección Opción C	60 %
Porcentaje de omisión	1 %
Nivel de dificultad	Fácil



Iván tiene 15 botones en una caja, 4 son rojos y el resto son azules. ¿Con qué operación Iván puede saber cuántos botones azules tiene?

A $15 - 15$

B $15 + 4$

C $15 - 4$

Septiembre 2021

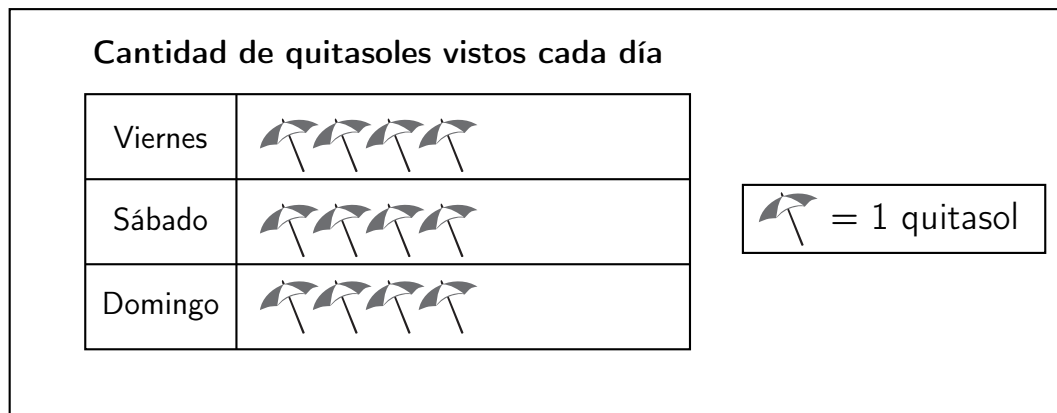
Sector	Matemática
Nivel	1º Básico
Eje	Estadística y probabilidad
Subeje	Estadística
Habilidad	Comprender
Indicador de evaluación	Identificar pictogramas que representan datos entregados.
Opción correcta	B
Porcentaje de elección Opción A	19 %
Porcentaje de elección Opción B	73 %
Porcentaje de elección Opción C	6 %
Porcentaje de omisión	2 %
Nivel de dificultad	Fácil

Felipe fue a la playa con su mamá y anotó en esta tabla la cantidad de quitasoles que vio cada día:

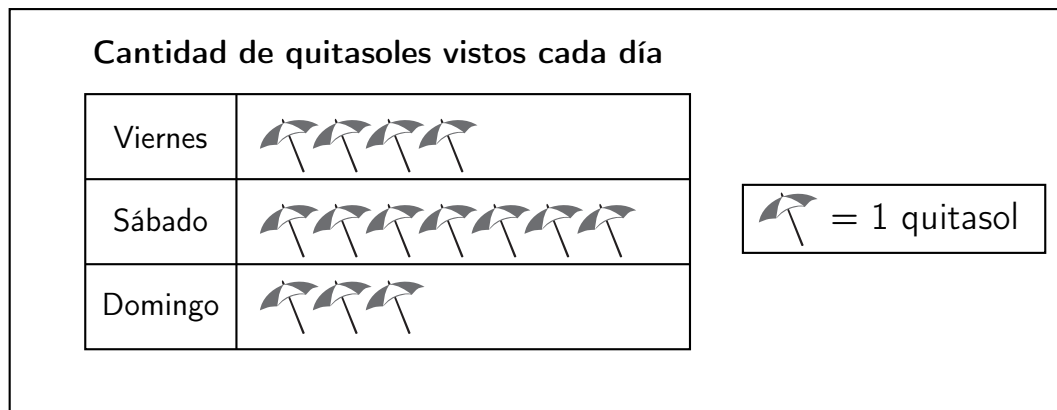
Día	Cantidad de quitasoles
Viernes	4
Sábado	7
Domingo	3

¿Qué pictograma representa los datos de esta tabla?

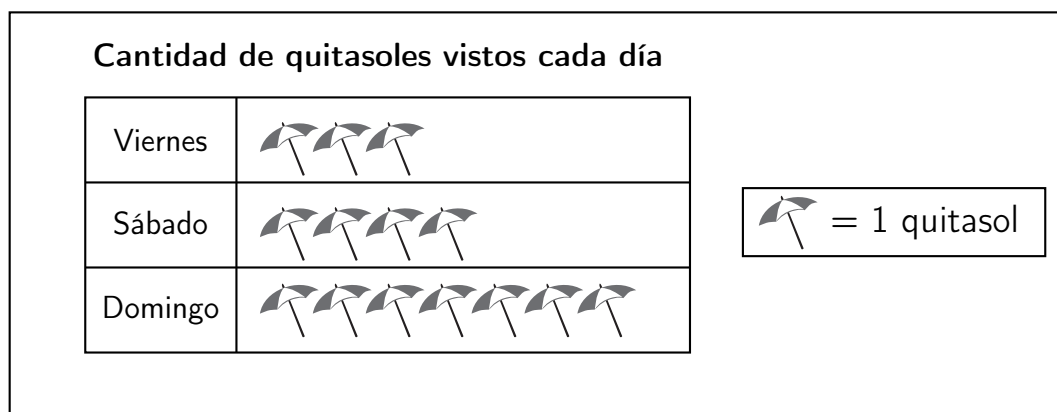
A



B



C



Agosto 2020

Sector	Matemática
Nivel	1° Básico
Eje	Geometría
Subeje	Orientación en el espacio
Habilidad	Recordar
Indicador de evaluación	Reconocer la posición de objetos según un referente.
Opción correcta	B
Porcentaje de elección Opción A	21 %
Porcentaje de elección Opción B	76 %
Porcentaje de elección Opción C	2 %
Porcentaje de omisión	1 %
Nivel de dificultad	Fácil

Observa esta imagen:




¿Cuál de estos objetos se encuentra DEBAJO de la mesa?

- A La tijera.
- B La regla.
- C El pegamento.

Octubre 2019

Sector	Matemática
Nivel	1° Básico
Eje	Estadística y probabilidad
Subeje	Estadística
Habilidad	Analizar
Indicador de evaluación	Relacionar información presentada en pictogramas.
Opción correcta	B
Porcentaje de elección Opción A	36 %
Porcentaje de elección Opción B	41 %
Porcentaje de elección Opción C	17 %
Porcentaje de omisión	6 %
Nivel de dificultad	Mediano

Este pictograma muestra la cantidad de libros que juntaron tres niños para una campaña de su colegio:



Según el pictograma, ¿cuál de estas informaciones es correcta?


- A Ana juntó 4 libros más que Eva.
- B Eva juntó 3 libros menos que Rafael.
- C Rafael juntó 3 libros menos que Ana.

Julio 2019


Sector	Matemática
Nivel	1° Básico
Eje	Geometría
Subeje	Formas geométricas
Habilidad	Recordar
Indicador de evaluación	Reconocer líneas rectas.
Opción correcta	C
Porcentaje de elección Opción A	6 %
Porcentaje de elección Opción B	9 %
Porcentaje de elección Opción C	81 %
Porcentaje de omisión	5 %
Nivel de dificultad	Fácil

¿Cuál de estas figuras está formada solo por líneas rectas?


A



B



C



Diciembre 2018

Sector	Matemática
Nivel	1° Básico
Eje	Números
Subeje	Números naturales
Habilidad	Recordar
Indicador de evaluación	Identificar la secuencia de los días de la semana.
Opción correcta	A
Porcentaje de elección Opción A	53 %
Porcentaje de elección Opción B	22 %
Porcentaje de elección Opción C	22 %
Porcentaje de omisión	2 %
Nivel de dificultad	Mediano



El día martes Isabel leyó una revista y el día anterior jugó a la pelota. ¿Qué día jugó a la pelota?

- A Lunes.
- B Domingo.
- C Miércoles.

Septiembre 2016

Tipo de prueba	Avance UC
Sector	Matemática
Nivel:	1° Básico
Eje	Geometría
Subeje	Formas geométricas
Habilidad	Comprender
Objetivo de evaluación	Relacionar objetos del entorno con figuras 3D.
Opción correcta	B
Porcentaje de elección Opción A	6 %
Porcentaje de elección Opción B	77 %
Porcentaje de elección Opción C	15 %
Porcentaje de omisión	2 %
Nivel de dificultad	Fácil

¿Cuál de estos objetos se parece a un cilindro?

A



B



C



Junio 2015

Tipo de prueba	Sepa
Sector	Matemática
Nivel	1° Básico
Eje	Números
Subeje	Números naturales
Habilidad	Aplicar
Indicador de evaluación	Identificar un elemento faltante en un patrón numérico, creciente y decreciente, con números de 0 a 20.
Opción correcta	C
Porcentaje de elección Opción A	4 %
Porcentaje de elección Opción B	10 %
Porcentaje de elección Opción C	68 %
Porcentaje de elección Opción D	15 %
Porcentaje de omisión	3 %
Nivel de dificultad	Fácil

Esta secuencia va de 1 en 1:

12	★	14	15
----	---	----	----

¿Qué número debe ir en ?

- A 10
- B 11
- C 13
- D 16