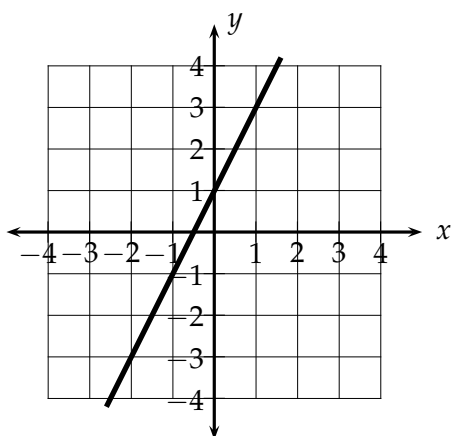


### Información de pregunta liberada

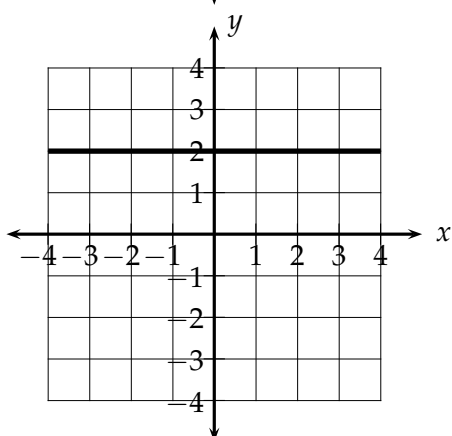
Sector	Matemática
Nivel	8° Básico
Eje	Álgebra
Subeje	Funciones
Habilidad	Recordar
Indicador de evaluación	Identificar diferentes representaciones de una función lineal (metáforas de máquinas, expresiones algebraicas, tablas de valores, diagramas de Venn o gráficos).
Opción correcta	D
Porcentaje de elección Opción A	13 %
Porcentaje de elección Opción B	20 %
Porcentaje de elección Opción C	29 %
Porcentaje de elección Opción D	33 %
Porcentaje de omisión	5 %
Nivel de dificultad	Difícil

¿En cuál de estos planos cartesianos se representa gráficamente una función lineal?

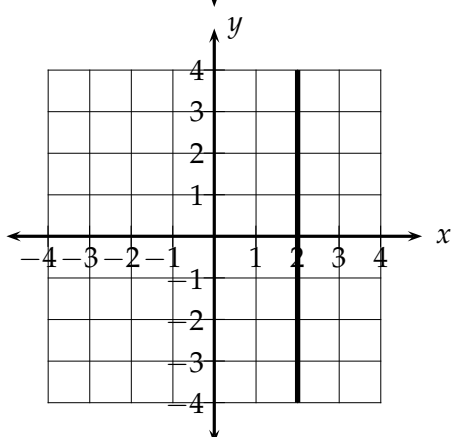
A



B



C



D

