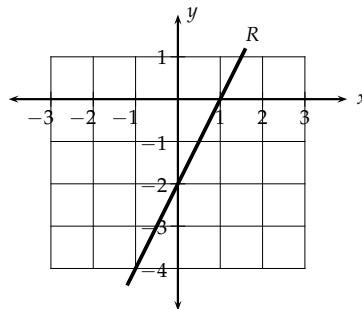


### Información de pregunta liberada

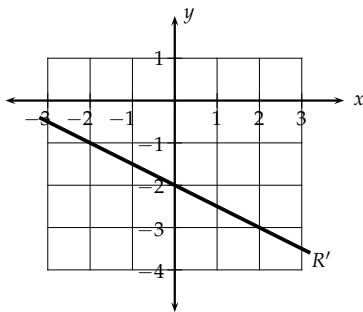
Sector	Matemática
Nivel	III Medio
Eje	Geometría
Subeje	Geometría analítica
Habilidad	Analizar
Indicador de evaluación	Analizar los efectos gráficos de la variación de la pendiente o del intercepto con el eje Y en la ecuación de la recta.
Opción correcta	D
Porcentaje de elección Opción A	11 %
Porcentaje de elección Opción B	27 %
Porcentaje de elección Opción C	14 %
Porcentaje de elección Opción D	44 %
Porcentaje de omisión	4 %
Nivel de dificultad	Mediano

Observa la recta  $R$  en este plano cartesiano:

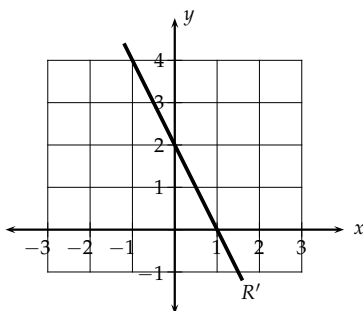


Al multiplicar por  $-1$  la pendiente de la recta  $R$ , se obtiene la recta  $R'$ . ¿Cuál de estos planos cartesianos muestra la ubicación de la recta  $R'$ ?

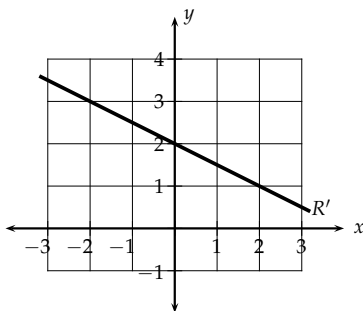
A



B



C



D

