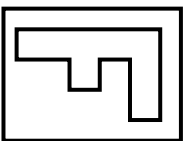


Información de pregunta liberada

Tipo de prueba	Sepa
Sector	Matemática
Nivel	4° Básico
Eje	Geometría
Subeje	Transformaciones isométricas
Habilidad	Comprender
Indicador de evaluación	Identificar la rotación de figuras 2D.
Opción correcta	C
Porcentaje de elección Opción A	19 %
Porcentaje de elección Opción B	21 %
Porcentaje de elección Opción C	47 %
Porcentaje de elección Opción D	12 %
Porcentaje de omisión	1 %
Nivel de dificultad	Mediano

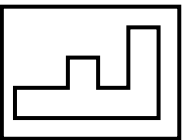


¿Qué figura se obtiene si la lámina

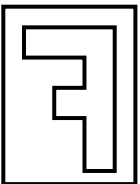


se rota $\frac{1}{4}$ de giro hacia la izquierda?

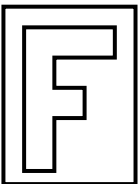
A



B



C



D

